


Содержание

Предисловие	3
Числа от 1 до 10	4
Слева или справа	8
Контрольная работа 1	11
Вычисления в пределах 10	12
Собираем пазл	16
Вычисления в пределах 10	17
Контрольная работа 2	28
Головоломка	30
Числа от 1 до 20	31
Вычисления в пределах 20	34
Контрольная работа 3	50
Деньги: рубли и копейки	52
Задачи	56
Числовая головоломка	61
Контрольная работа 4	62
Геометрия	64
Контрольная работа 5	67
Время	68
Контрольная работа 6	72
Заглянем в программу 2 класса	73
Основные понятия и подсказки	74
Ответы	77
Грамота	107
Детали пазла для вырезания	109

Дорогой друг!

Эта тетрадь поможет тебе понять, как интересно могут быть числа и насколько увлекательна математика. Тебе понравится размышлять, решать головоломки и рисовать!

Синие окошки вверху каждой страницы подскажут, над какой **темой** ты сейчас работаешь. Задания повышенной сложности отмечены значком . **Контрольные работы** покажут, как хорошо ты усвоил ту или иную тему.

В тетради находятся ответы с пояснениями, чтобы ты мог сам проверить правильность выполнения заданий. На странице 107 помещена ГРАМОТА. Её можно раскрасить, а потом извлечь из тетради и повесить на стену. За одно занятие старайся выполнить упражнения сразу на двух соседних страницах. Затем проверь себя с помощью ответов и закрась в грамоте поле с указанной цифрой соответствующим цветом. Для этого внизу каждой правой страницы даётся подсказка.

На страницах 74, 75 и 76 находятся объяснения важных **понятий** и несколько **арифметических подсказок**.

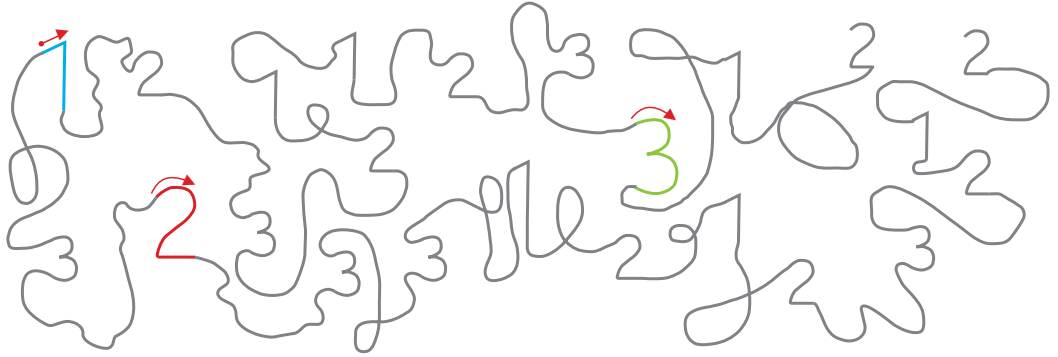
Желаю успехов!

Helena Heiß

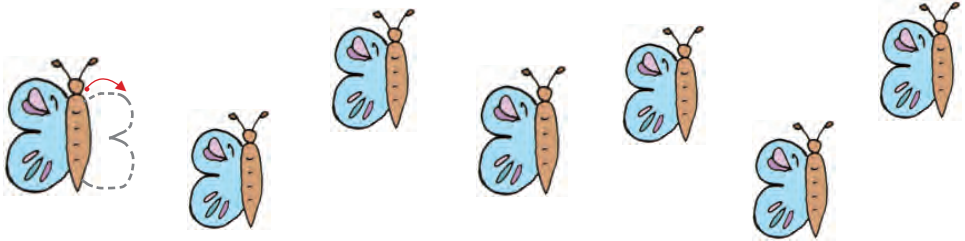
Привет! Меня зовут Коко.
Я буду помогать тебе
выполнять задания.
Давай начнём!



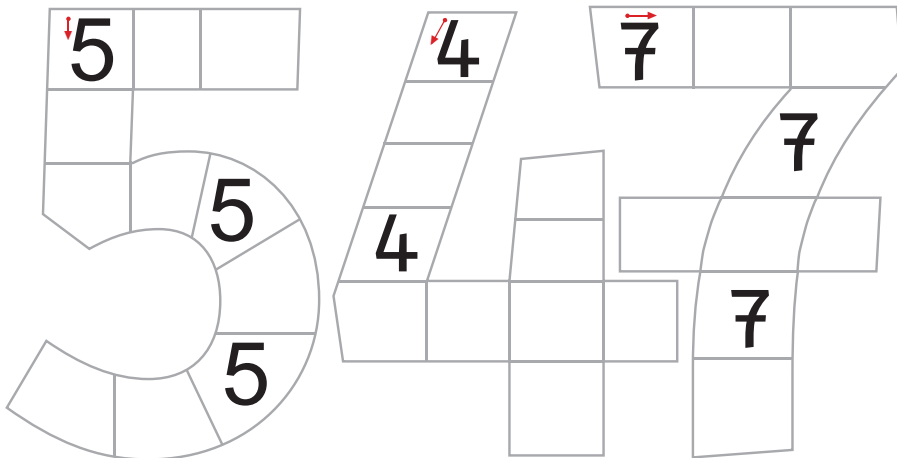
1. Найди и обведи числа в числовых джунглях: **1** — синим цветом, **2** — красным, **3** — зелёным. Обрати внимание на примеры и стрелочки.



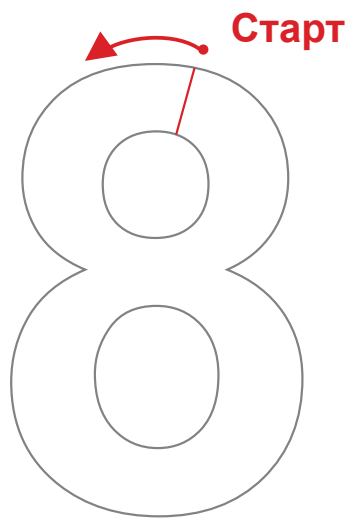
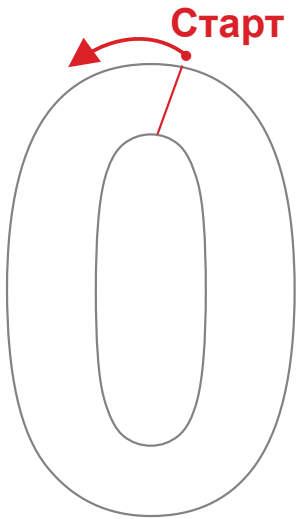
2. Дорисуй крылья бабочкам: напиши цифру 3.



3. Напиши в клеточках цифры 5, 4 и 7.



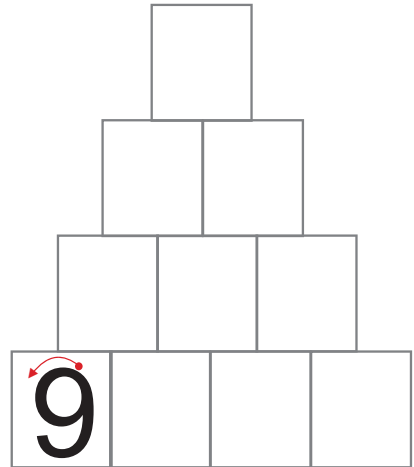
4. Автогонки. Проедь путь, используя десять разных цветов. Начни со старта.



5. Дорисуй локоны: напиши цифру 6.











6. Напиши в клеточках цифру 9.










Найди в грамоте (она на странице 107) поле с числом 5 и закрась его **коричневым** цветом.

7. Посчитай и поставь в таблице столько чёрточек, сколько нарисовано предметов. 5 чёрточек ставь так: III

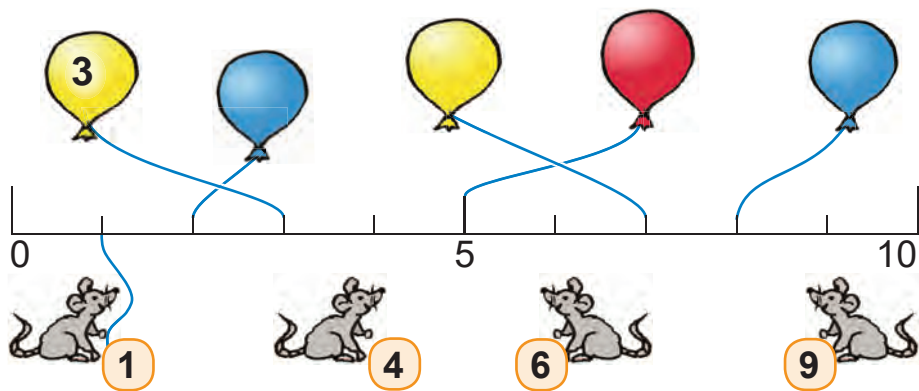
	III I	6
		
		
		
		
		
		
		

8. Нарисуй столько жемчужин, сколько указано в начале каждого ряда.

1 	2	3
4	5	6      
7	8	
9	10	

9. Посчитай с помощью числового луча до 10.

► Запиши на воздушных шарах отсутствующие числа.



► Соедини мышинные хвостики с подходящими местами на числовом луче. Проведи линии.

10. Сравни числа. Поставь знаки меньше (<), больше (>) или равно (=).

10 > 6	2 ○ 4	8 ○ 3	9 ○ 9	0 ○ 1
5 ○ 7	7 ○ 6	3 ○ 3	8 ○ 9	4 ○ 4

11. Напиши соседние числа.

□	3	□	□	8	□	□	5	□
---	---	---	---	---	---	---	---	---

12. Числовые прыжки. Какие числа нужно вписать?

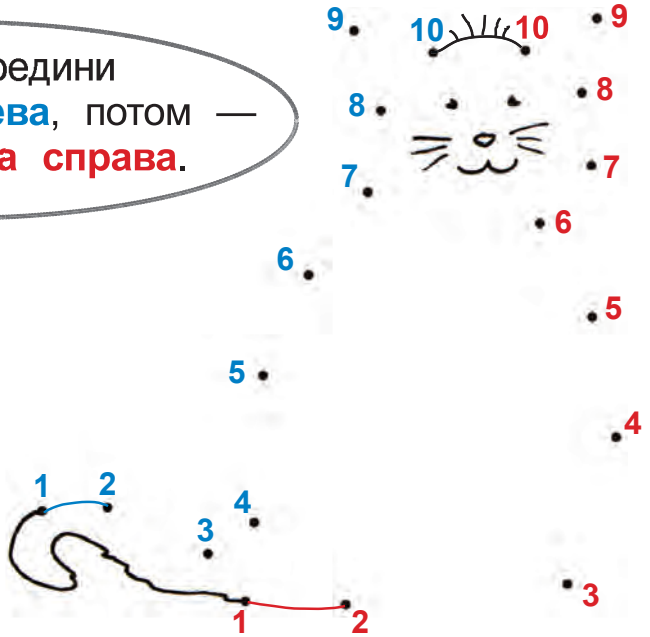
2	4	—	—	—
1	3	—	—	—

Закрась в графоте поле с числом 7.


Слева или справа?

13. Соедини числа от 1 до 10 по порядку.


Сначала соедини
синие числа слева, потом —
красные числа справа.




14. Что **слева** ← от дерева? Что **справа** →?



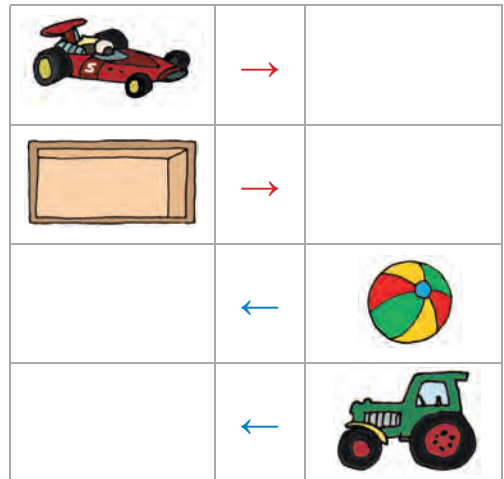
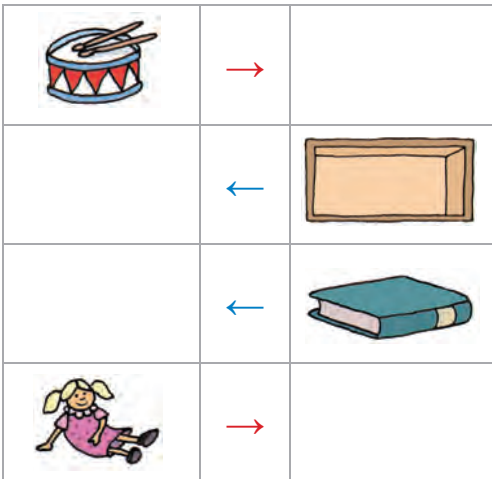
► Напиши рядом **Л**, если персонаж находится слева, и **П** — если справа.



15. Полка с игрушками.



► Что находится слева, а что справа от указанных предметов? Нарисуй.



► Здесь не хватает одной игрушки. Найди её на полке сверху и обведи в кружок.

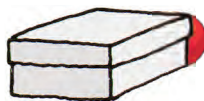
Закрась в графоте поле с числом 9.

Слева или справа?

16. Где шарик? Соедини каждую надпись с соответствующей картинкой.




На коробке



За коробкой

В коробке




Справа от коробки

Слева от коробки

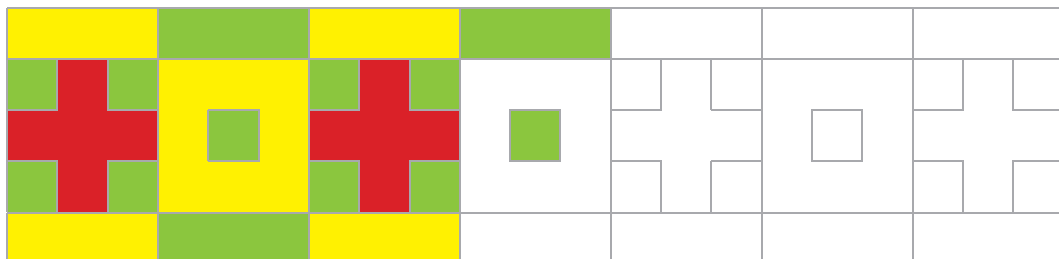


Под коробкой

Над коробкой



17. Продолжи узор по образцу. Обращай внимание на цвет каждого элемента.



Контрольная работа 1. Числа от 1 до 10.


Баллы:

1. Какое число показывают пальцы?



● /4

2. Сколько фруктов и ягод? Посчитай и запиши ответы в таблицу.



● /4

3. Поставь правильный знак: $<$, $>$, $=$.

$2 \bigcirc 4$

$6 \bigcirc 5$

$3 \bigcirc 3$

$8 \bigcirc 3$

● /4

4. Числа-соседи. Числа **слева** напиши **синим** цветом, числа **справа** — **красным**.

	5	
--	---	--

	7	
--	---	--

	9	
--	---	--

● /6

18–14 баллов:

Отлично! Ты молодец!

13–8 баллов:

Посмотри внимательно на задания, в которых допущены ошибки, и повтори материал.

Менее 8 баллов: Тебе нужно ещё поупражняться!

Всего:

Ответы к контрольной работе 1 можно найти на странице 102.

● /18